



Novembre / Décembre

JOUR 1

Grammaire

Numération



CE2



Novembre / Décembre

JOUR .....

Grammaire

Numération



CE2







# RITUELS

01

Novembre / Décembre

GRAMMAIRE

Recopie la phrase en séparant les mots.

Demain, j'emangerai à la cantine avec toi.

Recopie et complète

NUMÉRATION

Six cent trente-cinq : .....

Cinq cent quarante-six : ..... 1



# RITUELS

01

Novembre / Décembre

GRAMMAIRE

Recopie la phrase en séparant les mots.

Demain, j'emangerai à la cantine avec toi.  
Palomart en vacances à Paris.

Recopie et complète

NUMÉRATION

Six cent trente-cinq : .....

Cinq cent quarante-six : .....

Neuf cent cinquante-huit : ..... 2



# RITUELS

01

Novembre / Décembre

GRAMMAIRE

Recopie la phrase en séparant les mots.

Demain, j'emangerai à la cantine avec toi.  
Palomart en vacances à Paris.  
Lundi, tu pourras venir avec moi.

Recopie et complète

Six cent trente-cinq : .....

Cinq cent quarante-six : .....

Neuf cent Cinquante-huit : .....

Mille soixante : .....

vingt-sept : .....

NUMÉRATION



# RITUELS

02

Novembre / Décembre

GRAMMAIRE

Recopie la phrase et fais un rond rouge sous le verbe

Milo saute dans la flaque.  
Demain, tu iras à la piscine.

Recopie et écris le nombre en lettres

NUMÉRATION

721 : .....

836 : .....



# RITUELS

02

Novembre / Décembre

GRAMMAIRE

Recopie les phrases et fais un rond rouge sous le verbe

Milo saute dans la flaque.  
Le lion dévore rapidement la gazelle.  
Demain, tu iras à la piscine.

Recopie et écris le nombre en lettres

721 : .....

836 : .....

502 : .....



# RITUELS

02

Novembre / Décembre

GRAMMAIRE

Recopie les phrases et fais un rond rouge sous le verbe

Milo saute dans la flaque.  
Le lion dévore rapidement la gazelle.  
Elle cuisine seule chez elle.  
Demain, tu iras à la piscine.

Recopie et écris le nombre en lettres

721 : .....

836 : .....

502 : .....

940 : .....

NUMÉRATION



CE2

CE2

CE2

CE2

CE2

CE2



# RITUELS

03

Novembre / Décembre

GRAMMAIRE

Réécrit la phrase et note si il s'agit d'une phrase au passé (P), présent

P(Pr) ou futur (F)

Lily apprend sa poésie .  
Demain, elle récitera sa poésie.  
Pourquoi voulais tu me voir?

Range dans l'ordre croissant

Exemple : vingt-deux : 702 802 /  
702-435-612-99-356

.....



NUMÉRATION



# RITUELS

03

Novembre / Décembre

GRAMMAIRE

Réécrit la phrase et note si il s'agit d'une phrase au passé (P), présent (Pr) ou futur (F)

Lily apprend sa poésie .  
Demain, elle récitera sa poésie.  
Hier , Lily et ses copains ont écrit la poésie sur leur cahier.  
Quelle heure est-il?

Range dans l'ordre croissant

Exemple : vingt-deux : 702 802 /  
702-435-612-99-356- 621

.....



NUMÉRATION



# RITUELS

03

Novembre / Décembre

GRAMMAIRE

Réécrit la phrase et note si il s'agit d'une phrase au passé (P), présent (Pr) ou futur (F)

Lily apprend sa poésie .  
Demain, elle récitera sa poésie.  
Hier , Lily et ses copains ont écrit la poésie sur leur cahier.  
Quelle heure est -il?

Range dans l'ordre croissant

Exemple : vingt-deux : 702 802 /  
702-435-612-99-356-621- 703

.....



NUMÉRATION



# RITUELS

04

Novembre / Décembre

GRAMMAIRE

Recopie la phrase et fais un rond rouge sous le verbe

Papa bricole dans le garage.  
Ils plongent tous en même temps .

Écris le nombre qui vient avant et celui qui vient après.

..... 301 .....  
..... 555 .....  
..... 179 .....



NUMÉRATION



# RITUELS

04

Novembre / Décembre

GRAMMAIRE

Recopie les phrases et fais un rond rouge sous le verbe

Papa bricole dans le garage.  
Ils plongent tous en même temps.  
Les étoiles brillent toute la nuit.

Écris le nombre qui vient avant et celui qui vient après.

..... 301 .....      ..... 400 .....  
..... 555 .....  
..... 179 .....



NUMÉRATION



# RITUELS

04

Novembre / Décembre

GRAMMAIRE

Recopie les phrases et fais un rond rouge sous le verbe

Papa bricole dans le garage.  
Ils plongent tous en même temps.  
Les étoiles brillent toute la nuit.  
Il a mis ses chaussures.

Écris le nombre qui vient avant et celui qui vient après.

..... 301 .....      ..... 400 .....  
..... 555 .....      ..... 599 .....  
..... 179 .....      ..... 626 .....



NUMÉRATION



CE2

CE2

CE2

CE2

CE2

CE2



# RITUELS

05

Novembre / Décembre

GRAMMAIRE

Réécis la phrase au présent

Autrefois, la princesse vivait dans un château.

Lundi prochain, on fêtera Noël.

Réécis les nombres dans l'ordre décroissant

NUMÉRATION

455 - 347 - 828 - 911 - 290



# RITUELS

05

Novembre / Décembre

GRAMMAIRE

Réécis la phrase au présent

Autrefois, la princesse vivait dans un château.

Lundi prochain, on fêtera Noël.

J'attraperai la balle lancée par Ella.

Réécis les nombres dans l'ordre décroissant

NUMÉRATION

455 - 347 - 828 - 911 - 290  
703 - 522 - 834 - 600 - 924 - 823



# RITUELS

05

Novembre / Décembre

GRAMMAIRE

Réécis la phrase au présent

Autrefois, la princesse vivait dans un château.

Lundi prochain, on fêtera Noël.

J'attraperai la balle lancée par Ella.

Ils vivaient dans un igloo.

Réécis les nombres dans l'ordre

NUMÉRATION

décroissant  
455 - 347 - 828 - 911 - 290  
703 - 522 - 834 - 600 - 924 - 823  
995 - 878 - 656 - 996 - 789 - 879



# RITUELS

06

Novembre / Décembre

GRAMMAIRE

Recopie sur ton cahier que les verbes à l'infinitif

panier - attraper - chanter - crier - maison - tarte - jouez - parlons - finir - avançons

Place les signes <, > ou =

502 ..... 600  
554 ..... 454  
160 ..... 159 + 1  
200+200 ..... 399+1



NUMÉRATION



# RITUELS

06

Novembre / Décembre

GRAMMAIRE

Recopie sur ton cahier que les verbes à l'infinitif

panier - attraper - chanter - crier - maison - tarte - bavarder - prendre - jouez - parlons - finissez -

Place les signes <, > ou =

502 ..... 600      523 ..... 532  
554 ..... 454  
160 ..... 59 - 1  
210 ..... 201



NUMÉRATION



# RITUELS

06

Novembre / Décembre

GRAMMAIRE

Recopie sur ton cahier que les verbes

panier - attraper - chanter - crier - maison - tarte - bavarder - prendre - jouez - parlons - finissez - grignoter - cahier - nager

Place les signes <, > ou =

502 ..... 600      523 ..... 532  
554 ..... 454      13 + 3 ..... 11 + 3  
160 ..... 59 + 1      639 ..... 539  
210 ..... 201      9 x 10 ..... 900



NUMÉRATION

CE2

CE2

CE2

CE2

CE2

CE2





# RITUELS

07

Novembre / Décembre

GRAMMAIRE

Ecris la forme négative des phrases.

Je mange du chocolat.

Tu vas toujours au sport.

NUMÉRATION

Complète la suite numérique.

• 30- 40 - 50 - .... - 120

1



# RITUELS

07

Novembre / Décembre

GRAMMAIRE

Ecris la forme négative des phrases.

Je mange du chocolat.

Diana danse souvent à l'opéra de Paris.

Tu vas toujours au sport.

Complète la suite numérique.

• 30 - 40 - 50 - ..... - 120

• 12 - 14 - 16 - ..... - 30

2



# RITUELS

07

Novembre / Décembre

GRAMMAIRE

Ecris la forme négative des phrases.

Je mange du chocolat.

Diana danse souvent à l'opéra de Paris.

Papa et maman aiment quand je fais des bêtises.

Tu vas toujours au sport.

Complète la suite numérique.

• 30 - 40 - 50 - ... - 120

• 12 - 14 - 16 - ..... - 30

3



# RITUELS

08

Novembre / Décembre

GRAMMAIRE

Ecris la forme affirmative des phrases.

Milo ne parle pas vite.

Diane et Lily ne veulent pas un poney.

Écris le nombre qui vient avant et celui qui vient après.

..... 629 .....

..... 301 .....

NUMÉRATION

1



# RITUELS

08

Novembre / Décembre

GRAMMAIRE

Ecris la forme affirmative des phrases.

Milo ne parle pas vite.

Diane et Lily ne veulent pas un poney.

Tu ne manges jamais de légumes.

Écris le nombre qui vient avant et celui qui vient après.

..... 629 .....

..... 301 .....

..... 599 .....

NUMÉRATION

2



# RITUELS

08

Novembre / Décembre

GRAMMAIRE

Ecris la forme affirmative des phrases.

Milo ne parle pas vite.

Diane et Lily ne veulent plus de poney.

Elles ne préfèrent pas venir ce soir.

Tu ne manges jamais de légumes.

Écris le nombre qui vient avant et celui qui vient après.

..... 629 .....

..... 301 .....

..... 599 .....

NUMÉRATION

3



CE2

CE2

CE2

CE2

CE2

CE2



Novembre / Décembre

JOUR 2

Vocabulaire

Résolution de problèmes



CE2



Novembre / Décembre

JOUR .....

Vocabulaire

Résolution de problèmes



CE2







# RITUELS

B1

Novembre / Décembre

## VOCABULAIRE

Réécris les mots dans l'ordre alphabétique.

jupe - blouson - pantalon - chemise-  
chaussette

Résous ce problème sur ton cahier.

## PROBLEMES

Nino a 186 billes. Il en  
gagne 98 à la récréation.

Combien de billes a- t- il  
après la récréation?



# RITUELS

B1

Novembre / Décembre

## VOCABULAIRE

Réécris les mots dans l'ordre alphabétique.

-jupe - chaussette - blouson - pan-  
talon -

chemise

Lilas - rose - coquelicot - pivoine-  
tulipe

Résous ce problème sur ton cahier.

## PROBLEMES

Nino a 186 billes. Il en  
gagne 98 à la récréation.

Combien de billes a- t- il  
après la récréation?



# RITUELS

B1

Novembre / Décembre

## VOCABULAIRE

Réécris les mots dans l'ordre alphabétique.

- jupe - blouson - chaussette - pan-  
talon - chemise

- Lilas - rose - tulipe - coquelicot -  
pivoine

- hêtre - tilleul - bouleau - pin-  
peuplier

Résous ce problème sur ton cahier.

## PROBLEMES

Nino a 186 billes. Il en  
gagne 98 à la récréation.

Combien de billes a- t- il  
après la récréation?



# RITUELS

B2

Novembre / Décembre

## VOCABULAIRE

Copie sur ton cahier et dessine.

Lily observe la cage chez sa mamie. Il  
y a 2 jolies perruches.

Résous ce problème sur ton cahier.

## PROBLEMES

Agathe a 395 euros dans sa tirelire.  
Elle voudrait acheter un skate board  
qui coûte 280 euros.

Combien lui reste-t-il d'argent  
après avoir acheté son skate?



# RITUELS

B2

Novembre / Décembre

## VOCABULAIRE

Copie sur ton cahier et dessine

Lily observe la cage chez sa mamie. Il  
y a 2 jolies perruches, un mâle bleu  
et une petite femelle toute jaune.

Résous ce problème sur ton cahier.

## PROBLEMES

Agathe a 136 euros dans sa tirelire.  
Elle voudrait acheter un skate board  
qui coûte 88 euros.

Combien lui reste-t-il d'argent  
après avoir acheté son skate?



# RITUELS

B2

Novembre / Décembre

## VOCABULAIRE

Copie sur ton cahier et dessine

Lily observe la cage chez sa mamie. Il  
y a 2 jolies perruches, un mâle bleu  
et une petite femelle toute jaune . Les  
deux oiseaux sont inséparables.

Résous ce problème sur ton cahier.

## PROBLEMES

Agathe a 356 euros dans sa tirelire .  
Elle voudrait acheter un skate board  
qui coûte 268 euros.

Combien lui reste-t-il d'argent  
après avoir acheté son skate?



CE2

CE2

CE2

CE2

CE2

CE2



# RITUELS

B3

Novembre / Décembre

Réécris les mots dans l'ordre alphabétique.

VOCABULAIRE

- serpent - souris - sorcière - fantôme - potion

Résous ce problème sur ton cahier.

Adèle veut ranger sa collection de livres sur ses deux étagères. Sur la première étagère, elle range 37 livres et sur la deuxième, elle y met 28 livres. Combien de livres Adèle a-t-elle?

PROBLEMES



# RITUELS

B3

Novembre / Décembre

Réécris les mots dans l'ordre alphabétique.

VOCABULAIRE

- serpent - souris - sorcière - fantôme - potion
- pomme - poireau - prune - ananas - panais

Résous ce problème sur ton cahier.

Adèle veut ranger sa collection de livres sur ses deux étagères. Sur la première étagère, elle range 37 livres et sur la deuxième, elle y met 28 livres. Il en reste 8 non rangées. Combien de livres Adèle a-t-elle?

PROBLEMES



# RITUELS

B3

Novembre / Décembre

Réécris les mots dans l'ordre alphabétique.

VOCABULAIRE

- Serpent souris - sorcière - fantôme - potion
- pomme - panais - poireau - prune - ananas
- marteau - clou - vis - visseuse - scie - masse

Résous ce problème sur ton cahier.

Adèle veut ranger sa collection de livres sur ses deux étagères. Sur la première étagère, elle range 37 livres et sur la deuxième, elle y met 28 livres. Il en reste 13 non rangées. Combien de livres Adèle a-t-elle?

PROBLEMES



# RITUELS

B4

Novembre / Décembre

Cherche dans le dictionnaire et note le numéro de la page.

VOCABULAIRE

- Timbale
- Piano

Résous ce problème sur ton cahier.

Diana a acheté deux paquets de 17 chocolats pour Noël pour offrir à sa mamie.

Combien de chocolats a-t-elle acheté?

PROBLEMES



# RITUELS

B4

Novembre / Décembre

Cherche dans le dictionnaire et note le numéro de la page.

VOCABULAIRE

- timbale
- Harpe
- Piano

Résous ce problème sur ton cahier.

Diana a acheté 3 paquets de 13 chocolats pour Noël pour offrir à sa mamie. Combien de chocolats a-t-elle acheté?

PROBLEMES



# RITUELS

B4

Novembre / Décembre

Cherche dans le dictionnaire et note le numéro de la page.

VOCABULAIRE

- Timbale
- Harpe
- Xylophone
- Piano

Résous ce problème sur ton cahier.

Diana a acheté 4 paquets de 24 chocolats pour Noël pour offrir à sa mamie.

Combien de chocolats a-t-elle acheté?

PROBLEMES



CE2

CE2

CE2

CE2

CE2

CE2





# RITUELS

B5

Novembre / Décembre

## VOCABULAIRE

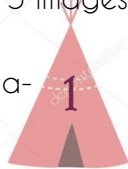
Copie sur ton cahier, devine et dessine.

Je suis un astre que l'on voit la nuit.  
Parfois je suis ronde, je suis.....

Résous ce problème sur ton cahier.

Louise offre 4 paquets de 5 images à Hugo.

Combien d'images Hugo va-t-il recevoir?



## PROBLEMES



# RITUELS

B5

Novembre / Décembre

## VOCABULAIRE

Copie sur ton cahier, devine et dessine.

Je suis un astre que l'on voit la nuit.  
Parfois je suis ronde, mais parfois je suis un croissant. Je suis.....

Résous ce problème sur ton cahier.

Louise offre 4 paquets de 6 images à Hugo.

Combien d'images Hugo va-t-il recevoir?



## PROBLEMES



# RITUELS

B5

Novembre / Décembre

## VOCABULAIRE

Copie sur ton cahier, devine et dessine.

Je suis un astre que l'on voit la nuit.  
Parfois je suis ronde, mais parfois je suis un croissant. J'ai des cratères.  
Je suis.....

Résous ce problème sur ton cahier.

Louise offre 6 paquets de 5 images à Hugo.

Combien d'images Hugo va-t-il recevoir?



## PROBLEMES



# RITUELS

B6

Novembre / Décembre

## VOCABULAIRE

Dans le dictionnaire, écris le mot repère de

La page 99 :

Résous ce problème sur ton cahier.

Paul veut remplir un seau qui peut contenir 36 litres d'eau. Il a déjà versé 28 litres.

Combien de litres manque-t-il?



## PROBLEMES



# RITUELS

B6

Novembre / Décembre

## VOCABULAIRE

Dans le dictionnaire, écris le mot repère de

La page 99:  
La page 45:

Résous ce problème sur ton cahier.

Paul veut remplir une baignoire qui peut contenir 360 litres d'eau. Il a déjà versé 280 litres.

Combien de litres manque-t-il?



## PROBLEMES



# RITUELS

B6

Novembre / Décembre

## VOCABULAIRE

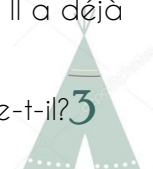
Dans le dictionnaire, écris le mot repère de

La page 99:  
La page 45:  
La page 21 :

Résous ce problème sur ton cahier.

Paul veut remplir une piscine qui peut contenir 3600 litres d'eau. Il a déjà versé 280 litres.

Combien de litres manque-t-il?



## PROBLEMES

CE2

CE2

CE2

CE2

CE2

CE2



# RITUELS

B7

Novembre / Décembre

VOCABULAIRE

Dans le dictionnaire , trouve le mot et note son numéro de page :

charrue : .....

Résous ce problème sur ton cahier.

Charlie voudrait offrir 10 sablés à ses 4 frères.

PROBLEMES

Combien de sablés doit-elle fabriquer?



# RITUELS

B7

Novembre / Décembre

VOCABULAIRE

Dans le dictionnaire , trouve le mot et note son numéro de page :

charrue : .....

labourer : .....

Résous ce problème sur ton cahier.

Charlie voudrait offrir 20 sablés à ses 4 frères.

PROBLEMES

Combien de sablés doit-elle fabriquer?



# RITUELS

B7

Novembre / Décembre

VOCABULAIRE

Dans le dictionnaire , trouve le mot et note son numéro de page :

charrue : .....

labourer : .....

semmer : .....

Résous ce problème sur ton cahier.

Charlie voudrait offrir 30 sablés à ses 3 frères.

PROBLEMES

Combien de sablés doit-elle fabriquer?



# RITUELS

B8

Novembre / Décembre

VOCABULAIRE

Donne 4 mots pour chaque mot-étiquette.

Exemple : insecte ->coccinelle - sauterelle - gendarme - fourmi  
Fruits ->

Résous ce problème sur ton cahier.

Julie veut ranger 40 photos dans un album. Chaque page peut contenir 20 photos. Combien de pages Julie va-t-elle utiliser?

PROBLEMES



# RITUELS

B8

Novembre / Décembre

VOCABULAIRE

Donne 4 mots pour chaque mot-étiquette.

Exemple : insecte ->coccinelle - sauterelle - gendarme - fourmi  
Fruits ->

Instruments de musique ->

Résous ce problème sur ton cahier.

Julie veut ranger 60 photos dans un album. Chaque page peut contenir 20 photos. Combien de pages Julie va-t-elle utiliser?

PROBLEMES



# RITUELS

B8

Novembre / Décembre

VOCABULAIRE

Donne 4 mots pour chaque mot-étiquette.

Exemple : insecte ->coccinelle - sauterelle - gendarme - fourmi  
Fruits ->

Instruments de musique ->

Animaux sauvages ->

Résous ce problème sur ton cahier.

Julie veut ranger 70 photos dans un album. Chaque page peut contenir 20 photos. Combien de pages Julie va-t-elle utiliser?

PROBLEMES



CE2

CE2

CE2

CE2

CE2

CE2



Novembre / Décembre

JOUR 3

Production d'écrits

Calcul



CE2



Novembre / Décembre

JOUR .....

Production d'écrits

Calcul



CE2







# RITUELS

C1

Novembre / Décembre

ECRITURE

Ecris une ou 2 phrases qui racontent ce que tu as fait ce week-end.

Recopie et calcule mentalement.

CALCUL

$$35 + 4 + 7 =$$

$$44 + 6 + 7 =$$

$$11 + 9 + 19 =$$



# RITUELS

C1

Novembre / Décembre

ECRITURE

Ecris 3 phrases qui racontent ce que tu as fait ce week-end.

Recopie et calcule mentalement.

CALCUL

$$35 + 4 + 7 =$$

$$44 + 6 + 7 =$$

$$11 + 9 + 19 =$$

$$25 + 25 + 8 =$$



# RITUELS

C1

Novembre / Décembre

FRANCAIS

Ecris 4 phrases qui racontent ce que tu as fait ce week-end.

Recopie et calcule mentalement.

CALCUL

$$35 + 4 + 7 =$$

$$44 + 6 + 7 =$$

$$11 + 9 + 19 =$$

$$25 + 25 + 8 =$$

$$25 + 26 + 25 + 24 =$$



# RITUELS

C2

Novembre / Décembre

ECRITURE

Tu rencontres un génie qui pourrait exaucer un vœu. Quel vœu choisirais-tu?  
Mon premier vœu serait....

Recopie et calcule

CALCUL

$$70 - 30 =$$

$$90 - 60 =$$

$$50 - 35 =$$



# RITUELS

C2

Novembre / Décembre

ECRITURE

Tu rencontres un génie qui pourrait exaucer deux vœux. Quels vœux choisirais-tu?  
Mon premier vœu serait....  
Mon deuxième vœu serait .....

Recopie et calcule

CALCUL

$$70 - 30 =$$

$$90 - 60 =$$

$$50 - 35 =$$

$$60 - 15 =$$



# RITUELS

C2

Novembre / Décembre

ECRITURE

Tu rencontres un génie qui pourrait exaucer trois vœux. Quels vœux choisirais-tu?  
Mon premier vœu serait....  
Mon deuxième vœu serait .....

Recopie et calcule

CALCUL

$$70 - 30 =$$

$$80 - 25 =$$

$$90 - 60 =$$

$$70 - 15 =$$

$$50 - 35 =$$

$$60 - 15 =$$



CE2

CE2

CE2

CE2

CE2

CE2





# RITUELS

C3

Novembre / Décembre

ECRITURE

Ecris une ou deux phrases pour dire comment est ton meilleur ami.

Recopie et calcule

$$130 + 220 =$$

$$550 + 350 =$$

$$400 + 610 =$$

CALCUL



# RITUELS

C3

Novembre / Décembre

ECRITURE

Ecris deux ou trois phrases pour dire comment est ton meilleur ami.

Recopie et calcule

$$130 + 220 =$$

$$550 + 350 =$$

$$400 + 610 =$$

$$400 + 240 =$$

$$310 + 220 =$$

CALCUL



# RITUELS

C3

Novembre / Décembre

ECRITURE

Ecris trois ou quatre phrases pour dire comment est ton meilleur ami.

Recopie et calcule

$$130 + 220 =$$

$$550 + 350 =$$

$$400 + 610 =$$

$$400 + 240 =$$

$$310 + 220 =$$

$$540 + 620 =$$

CALCUL



# RITUELS

C4

Novembre / Décembre

ECRITURE

Ecris 2 choses que tu fais le matin avant de venir à l'école.

Recopie et calcule

$$200 - 110 =$$

$$500 - 340 =$$

$$400 - 230 =$$

CALCUL



# RITUELS

C4

Novembre / Décembre

ECRITURE

Ecris 3 choses que tu fais le matin avant de venir à l'école.

Recopie et calcule

$$200 - 110 =$$

$$500 - 340 =$$

$$400 - 230 =$$

$$600 - 320 =$$

CALCUL



# RITUELS

C4

Novembre / Décembre

ECRITURE

Ecris 4 choses que tu fais le matin avant de venir à l'école.

Recopie et calcule

$$200 - 110 =$$

$$500 - 340 =$$

$$400 - 230 =$$

$$600 - 230 =$$

$$500 - 140 =$$

CALCUL



CE2

CE2

CE2

CE2

CE2

CE2



# RITUELS

C5

Novembre / Décembre

ECRITURE

Qu'est-ce que tu adores faire à l'école?  
Explique pourquoi.

CALCUL

Recopie et complète  
Le double de 26 est ....  
Le double de 18 est ....



# RITUELS

C5

Novembre / Décembre

ECRITURE

Qu'est-ce que tu adores faire à l'école?  
Explique pourquoi.

CALCUL

Recopie et complète  
Le double de 26 est ....  
Le double de 18 est ....  
Le double de 39 est ....



# RITUELS

C5

Novembre / Décembre

ECRITURE

Qu'est-ce que tu adores faire à l'école?  
Explique pourquoi.

CALCUL

Recopie et complète  
Le double de 26 est ....  
Le double de 18 est ....  
Le double de 39 est ....  
Le double de 58 est ....



# RITUELS

C6

Novembre / Décembre

ECRITURE

Ecris 3 choses que tu aimes faire pendant les vacances.

CALCUL

Recopie et calcule:  
 $(10 \times 10) + 5 = \dots\dots$   
 $(10 \times 10) + 5 + (10 \times 3) = \dots\dots$



# RITUELS

C6

Novembre / Décembre

ECRITURE

Ecris 4 choses que tu aimes faire pendant les vacances.

CALCUL

Recopie et calcule:  
 $(10 \times 10) + 5 = \dots\dots$   
 $(10 \times 10) + 5 + (10 \times 3) = \dots\dots$   
 $(10 \times 3) + 10 + 9 = \dots\dots$



# RITUELS

C6

Novembre / Décembre

ECRITURE

Ecris 5 choses que tu aimes faire pendant les vacances.

CALCUL

Recopie et calcule:  
 $(10 \times 10) + 5 = \dots\dots$   
 $(10 \times 10) + 5 + (10 \times 3) = \dots\dots$   
 $(10 + 10 + 10 + 10) + 9 = \dots\dots$   
 $(10 + 10 + 10) + (5 \times 5) + 1 = \dots\dots$



CE2

CE2

CE2

CE2

CE2

CE2



# RITUELS

C7

Novembre / Décembre

ECRITURE

Fais la liste de ce que tu aimerais recevoir pour Noël?

Recopie et calcule

$$143 - 33 = \dots\dots$$

$$256 - 27 = \dots\dots$$

$$390 - 100 = \dots\dots$$

CALCUL



# RITUELS

C7

Novembre / Décembre

ECRITURE

Fais la liste de ce que tu aimerais recevoir pour Noël?

Recopie et calcule

$$210 - 40 = \dots\dots$$

$$143 - 33 = \dots\dots$$

$$256 - 27 = \dots\dots$$

$$390 - 100 = \dots\dots$$

CALCUL



# RITUELS

C7

Novembre / Décembre

ECRITURE

Fais la liste de ce que tu aimerais recevoir pour Noël?

Recopie et calcule

$$143 - 33 = \dots\dots$$

$$256 - 27 = \dots\dots$$

$$390 - 100 = \dots\dots$$

$$210 - 40 = \dots\dots$$

$$150 - 60 = \dots\dots$$

CALCUL



# RITUELS

C8

Novembre / Décembre

ECRITURE

Explique avec quoi tu pourrais décorer le sapin de Noël.

Recopie et calcule

$$457 + 318 = \dots\dots$$

$$268 + 129 = \dots\dots$$

$$419 + 336 = \dots\dots$$

CALCUL



# RITUELS

C8

Novembre / Décembre

ECRITURE

Explique avec quoi tu pourrais décorer le sapin de Noël.

Recopie et calcule

$$457 + 318 = \dots\dots$$

$$268 + 129 = \dots\dots$$

$$419 + 336 = \dots\dots$$

$$526 + 185 = \dots\dots$$

CALCUL



# RITUELS

C8

Novembre / Décembre

ECRITURE

Explique avec quoi tu pourrais décorer le sapin de Noël.

Recopie et calcule

$$457 + 318 = \dots\dots$$

$$268 + 129 = \dots\dots$$

$$419 + 336 = \dots\dots$$

$$526 + 185 = \dots\dots$$

$$405 + 297 = \dots\dots$$

CALCUL



CE2

CE2

CE2

CE2

CE2

CE2



Novembre / Décembre

JOUR 4

Orthographe / Conjugaison

Mesure / Géométrie



CE2



Novembre / Décembre

JOUR .....

Orthographe / Conjugaison

Mesure / Géométrie



CE2









# RITUELS

D1

Novembre / Décembre

CONJUGAISON

Conjugué en entier le verbe être impatient au présent

Dessine sur ton cahier les pièces nécessaires pour faire

MESURE

- 43 € 70c
- 51 € 35c



# RITUELS

D1

Novembre / Décembre

CONJUGAISON

Conjugué en entier au présent:

- être impatient
- Avoir envie

Dessine sur ton cahier les pièces nécessaires pour faire

MESURE

- 43 € 70c
- 51 € 35c
- 54 € 20c



# RITUELS

D1

Novembre / Décembre

CONJUGAISON

Conjugué en entier au présent:

- être impatient
- Avoir envie

Dessine sur ton cahier les pièces nécessaires pour faire

MESURE

- 43 € 70c
- 51 € 35c
- 54 € 20c
- 29 € 75c



# RITUELS

D2

Novembre / Décembre

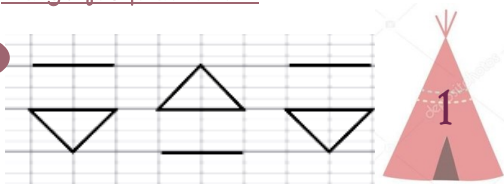
CONJUGAISON

Range les verbes selon leur groupe:

Parler - entendre - finir - aller - voir - manger

Reproduis cette frise sur ton cahier de la marge jusqu'au bout.

GEOMETRIE



# RITUELS

D2

Novembre / Décembre

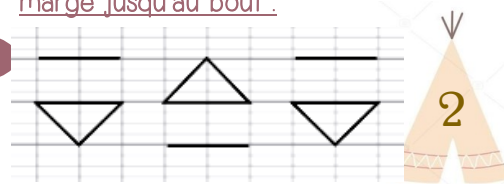
CONJUGAISON

Range les verbes selon leur groupe:

Parler - entendre - finir - aller - voir - manger - applaudir - boire

Reproduis cette frise sur ton cahier de la marge jusqu'au bout.

GEOMETRIE



# RITUELS

D2

Novembre / Décembre

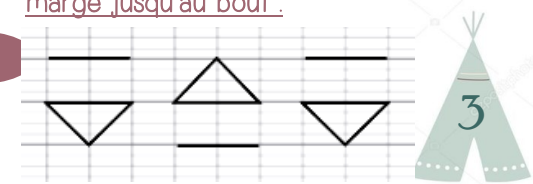
CONJUGAISON

Range les verbes selon leur groupe:

Parler - entendre - finir - aller - voir - manger - applaudir - boire - appeler - sentir

Reproduis cette frise sur ton cahier de la marge jusqu'au bout.

GEOMETRIE



CE2

CE2

CE2

CE2

CE2

CE2



# RITUELS

D3

Novembre / Décembre

CONJUGAISON

Conjugué le verbe parler en entier au présent

GEOMETRIE

Nomme ces 3 figures



# RITUELS

D3

Novembre / Décembre

CONJUGAISON

Conjugué en entier au présent:

- parler
- appeler

Nomme ces 4 figures

GEOMETRIE



# RITUELS

D3

Novembre / Décembre

CONJUGAISON

Conjugué en entier au présent:

- parler
- Appeler
- Manger

Nomme ces 4 figures

GEOMETRIE



# RITUELS

D4

Novembre / Décembre

ORTHOGRAPHE

Mets ces groupes de nom au pluriel.

Un chat -> des chats  
 un panier ->  
 une plume ->

GEOMETRIE

Reproduis cette frise sur ton cahier de la marge jusqu'au bout.



# RITUELS

D4

Novembre / Décembre

ORTHOGRAPHE

Mets ces groupes de nom au pluriel.

Un chat -> des chats  
 un panier ->  
 une plume ->  
 l'étoile ->

GEOMETRIE

Reproduis cette frise sur ton cahier de la marge jusqu'au bout.



# RITUELS

D4

Novembre / Décembre

ORTHOGRAPHE

Mets ces groupes de nom au pluriel.

Un chat -> des chats  
 un panier ->  
 une plume ->  
 l'étoile ->  
 Le lion ->

GEOMETRIE

Reproduis cette frise sur ton cahier de la marge jusqu'au bout.



CE2

CE2

CE2

CE2

CE2

CE2



# RITUELS

D5

Novembre / Décembre

ORTHOGRAPHE Recopie les mots en ajoutant le m ou le n.

pla...te - la...pe - sa...g

Dessine sur ton cahier les pièces et les billets nécessaires pour faire

MESURE

- 33 € 25c
- 56 € 70c



# RITUELS

D5

Novembre / Décembre

ORTHOGRAPHE Recopie les mots en ajoutant le m ou le n.

pla...te - la...pe - sa...g - bla...c  
po...per - fo...dre

Dessine sur ton cahier les pièces et les billets nécessaires pour faire

MESURE

- 33 € 25c
- 56 € 70c
- 45 €



# RITUELS

D5

Novembre / Décembre

ORTHOGRAPHE Recopie les mots en ajoutant le m ou le n.

pla...te - la...pe - sa...g - bla...c  
po...per - fo...dre - e...mener

Dessine sur ton cahier les pièces et les billets nécessaires pour faire

MESURE

- 33 € 25c
- 56 € 70c
- 45 €
- 28 € 36c



# RITUELS

D6

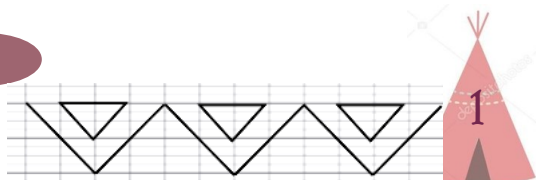
Novembre / Décembre

CONJUGAISON

Conjugué en entier au présent le verbe finir

Reproduis cette frise sur ton cahier de la marge jusqu'au bout.

GEOMETRIE



# RITUELS

D6

Novembre / Décembre

CONJUGAISON

Conjugué en entier au présent:

- finir
- applaudir

Reproduis cette frise sur ton cahier de la marge jusqu'au bout.

GEOMETRIE



# RITUELS

D6

Novembre / Décembre


CONJUGAISON

Conjugué en entier au présent:

- finir
- applaudir
- bâtir

Reproduis cette frise sur ton cahier de la marge jusqu'au bout.

GEOMETRIE



CE2

CE2

CE2

CE2

CE2

CE2



# RITUELS

D7

Novembre / Décembre

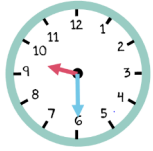
Mets ces groupes de nom au pluriel.

ORTHOGRAPHE

Un chat -> des chats  
une voiture ->  
une chaussure ->

Ecris l'heure indiquée sur ces pendules.

MESURE



# RITUELS

D7

Novembre / Décembre

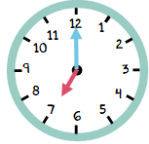
Mets ces groupes de nom au pluriel.

ORTHOGRAPHE

Un chat -> des chats  
une voiture ->  
une chaussure ->  
un bague ->

Ecris l'heure indiquée sur ces pendules.

MESURE



# RITUELS

D7

Novembre / Décembre

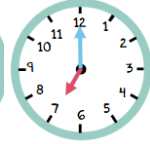

Mets ces groupes de nom au pluriel.

ORTHOGRAPHE

Un chat -> des chats  
une voiture ->  
une chaussure ->  
un bague ->  
une chouette ->

Ecris l'heure indiquée sur ces pendules.

MESURE



# RITUELS

D8

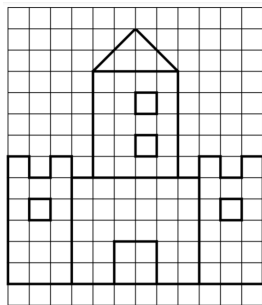
Novembre / Décembre

Ecris 3 mots où tu entends le son cl ou fl ou bl.

ORTHOGRAPHE

Reproduis une fois cette figure sur ton cahier et colorie.

GEOMETRIE



# RITUELS

D8

Novembre / Décembre

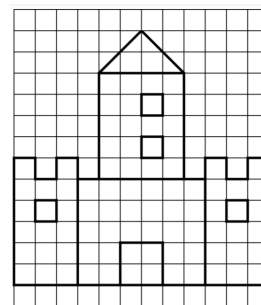
Ecris 4 mots où tu entends le son cl ou fl.

ORTHOGRAPHE

ou bl.

Reproduis une fois cette figure sur ton cahier et colorie.

GEOMETRIE



# RITUELS

D8

Novembre / Décembre

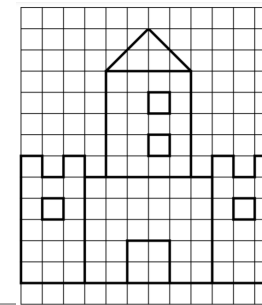
Ecris 5 mots où tu entends le son cl ou fl.

ORTHOGRAPHE

ou bl.

Reproduis une fois cette figure sur ton cahier et colorie.

GEOMETRIE



CE2

CE2

CE2

CE2

CE2

CE2





Novembre / Décembre

## FEUILLE DE SUIVI

Prends une carte, réalise le travail demandé sur ton cahier du jour puis replace la carte à l'endroit où tu l'as prise.



Pendant cette période, tu vas devoir réaliser tous les matins une petite carte-rituel.

Tu pourras choisir ce que tu veux, mais tu devras essayer de varier les disciplines. Coche ensuite la carte que tu as réalisée.

	A	B	C	D
1				
2				
3				
4				
5				
6				
7				
8				

BILAN :



Novembre / Décembre

## FEUILLE DE SUIVI

Prends une carte, réalise le travail demandé sur ton cahier du jour puis replace la carte à l'endroit où tu l'as prise.



Pendant cette période, tu vas devoir réaliser tous les matins une petite carte-rituel.

Tu pourras choisir ce que tu veux, mais tu devras essayer de varier les disciplines. Coche ensuite la carte que tu as réalisée.

	A	B	C	D
1				
2				
3				
4				
5				
6				
7				
8				

BILAN :