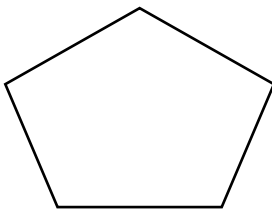
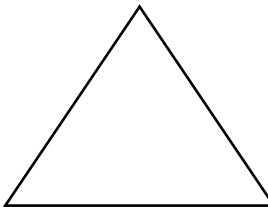
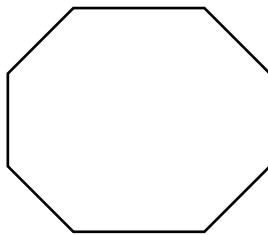

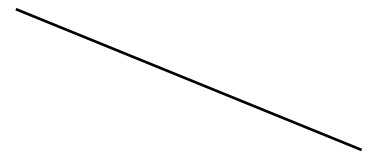
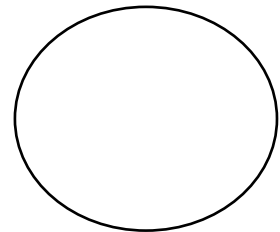
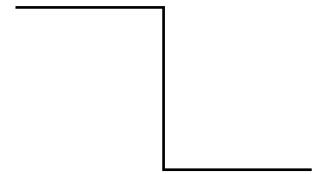
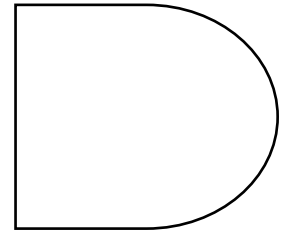


Les polygones découverte

Ce sont des polygones



Ce ne sont pas des polygones



Colorie avec un camarade la bonne réponse.

Un polygone est :

• une figure qui a

plusieurs côtés

un seul côté

• une figure qui est

tracée avec une règle

tracée avec aucun outil.

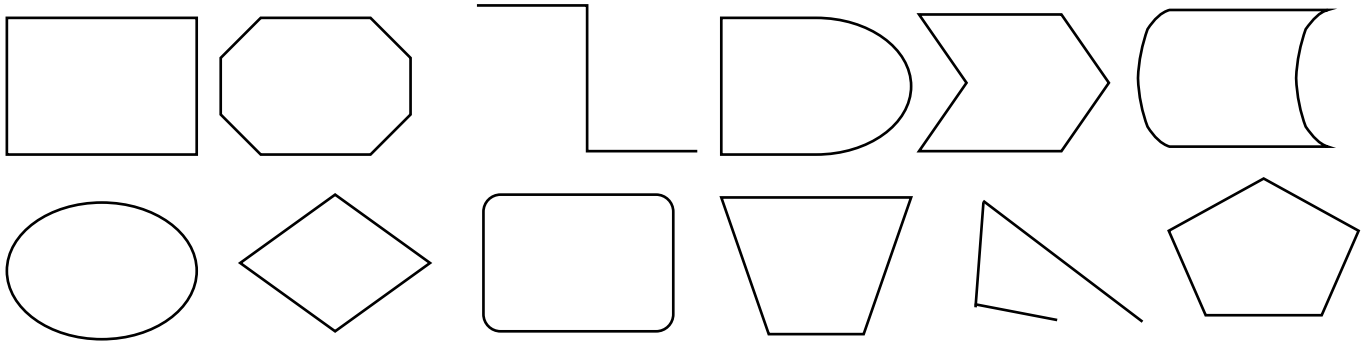
• une figure

ouverte


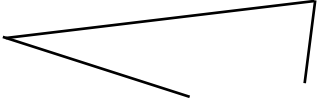

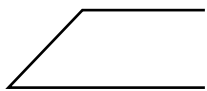

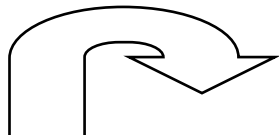
fermée

Les polygones exercices

Ne colorie que les polygones.

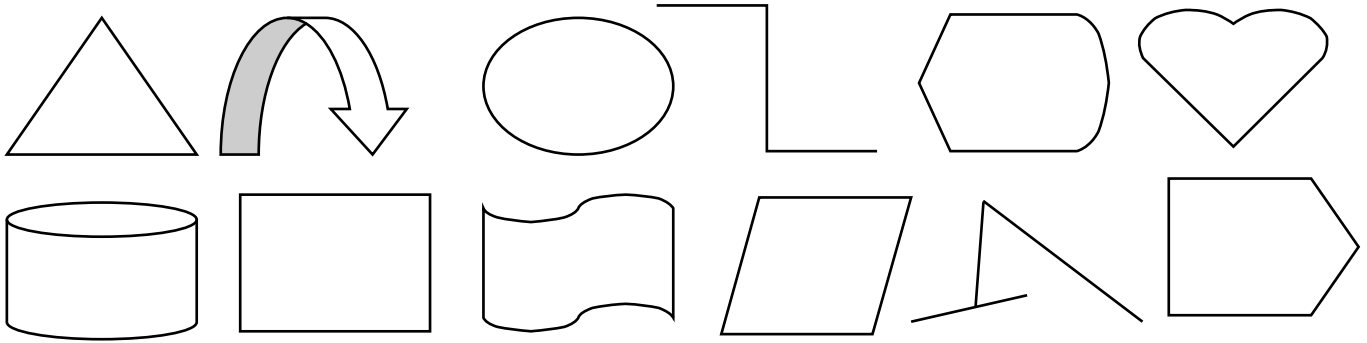


Toutes ces figures ne sont pas des polygones, coche pour dire pourquoi.

	Ce n'est pas un polygone car elle n'a pas plusieurs côtés.	Ce n'est pas un polygone car ce n'est pas une figure fermée.	Ce n'est pas un polygone car on ne peut pas la tracer à la règle.
			
			
			
			
			
			

Les polygones exercices

Ne colorie que les polygones.



Colorie selon le code couleur.

bleu

3 côtés - le triangle

rouge


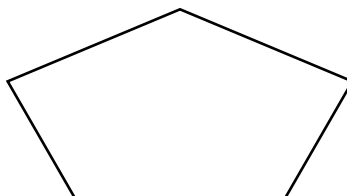
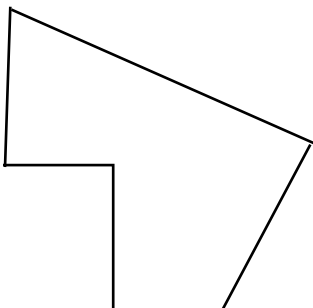

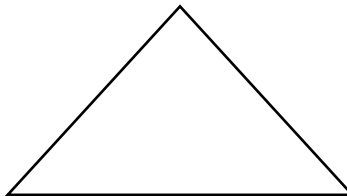
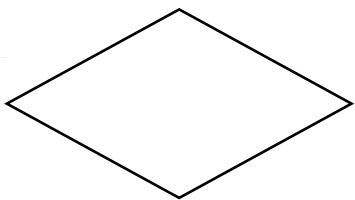
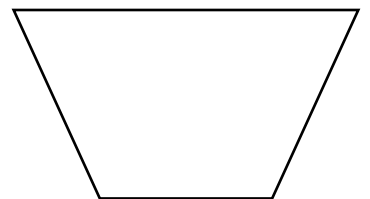
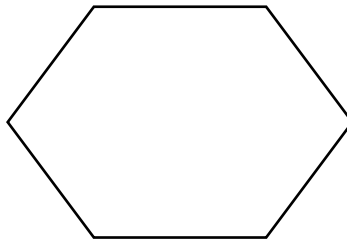
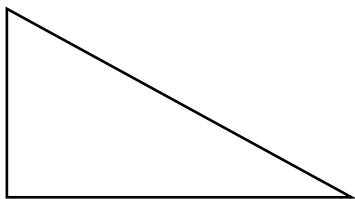
5 côtés - un pentagone

jaune

4 côtés - un quadrilatère


vert

6 côtés - un hexagone




Les polygones exercices


Trace les polygones avec ton crayon et ta règle.




3 côtés - le triangle



4 côtés - un quadrilatère



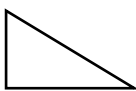
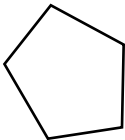
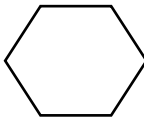
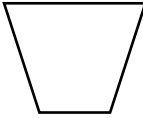
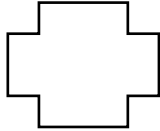
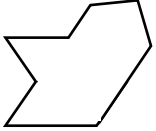
5 côtés - un pentagone



6 côtés - un hexagone

Complète le tableau

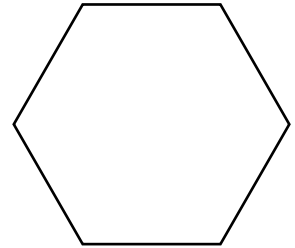


						
Nombre de côtés						
Nombre de sommets						

Les polygones exercices

Relie la définition à la bonne figure.


Je suis un polygone à 3
côtés. J'ai un angle droit.
Je suis un triangle rectangle.



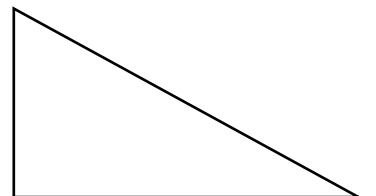
Je suis un polygone à
6 côtés. Je suis un hexagone.



Je suis un polygone à 4
côtés. J'ai 2 côtés de même
longueur et 4 angles droits.
Je suis un rectangle.



Je suis un polygone à 4
côtés de même longueur.
J'ai 4 angles droits
Je suis un carré.



Je suis un polygone à 4 cô-
tés de même longueur. Je
suis un losange.



Les polygones leçon

Un polygone à
3 cotés:
LE TRIANGLE

Un polygone à 4 cotés:
LE QUADRILATÈRE

Un polygone à 5 cotés:
LE PENTAGONE

Un polygone à 6 cotés:
L'HEXAGONE

Un polygone à 7 cotés et
plus...

ATTENTION

Si la figure n'est pas fermée, et si elle n'est pas tracée à la règle, alors

CE N'EST PAS UN POLYGONE

Un polygone est une figure
géométrique tracée à la
règle, et fermée .
Elle a plusieurs côtés.

