

Plan de travail du

Appréciations:

	fait	notation
Vocabulaire	3 4 8	
Orthographe	5 7 10	
Grammaire/ conjugaison	1 2 6	
Ecriture / Lecture	9 22	
Numération	11 14 15 17	
Calcul et problème	12 13 18 20	
Géométrie et mesure	16 19 21	

1

CONJUGAISON Conjugué ces 3 verbes au présent de l'indicatif

	parler	chanter	sauter
Je			
Tu			saut es
Il, elle			
Nous		chant ons	
Vous			
Ils, elles	parl ent		

2

GRAMMAIRE

Fais un rond rouge sous le verbe et souligne en bleu le sujet. Ensuite remplace le groupe sujet par un pronom personnel il/elle/ils/elles.

Léo et Arthur jouent aux cartes dans le salon.

.....

Les filles du collège discutent dans la cour de récréation.

.....

Les fleurs poussent dans le jardin ensoleillé.

.....

3

LEXIQUE Cherche dans le dictionnaire le mot **VIRAGE** et écris la définition.

4

LEXIQUE

Colorie de la même couleur les mots contraires.


triste	noir	long	se réveiller	clair
foncé	capable	malhabile	lent	blanc
s'éloigner	pleurer	joyeux	s'approcher	rapide
habile	rire	incapable	s'endormir	court


5

ORTHOGRAPHE

Ecris les mots. Aide-toi des syllabes.













gue

la

rou

gou

lo

che

va

kan

vé

ki

val

wi

koa

6

GRAMMAIRE

Fais un triangle bleu sous le déterminant et un triangle noir sous le

nom.

son jeune apprenti

l'enquête

Les choses

l'apprenti détective

la jeune femme

un perroquet

l'animal sauvage

le détective

une niche ouverte

7

ORTHOGRAPHE

Mets ces groupes nominaux au pluriel.

Un chat noir des

Un lion féroce des

Un petit cahier des

L'étoile polaire les

8

LEXIQUE

Colorie de la même couleur les mots qui sont synonymes..

petit	content	mobilier	faune	pavillon
fatigué	minuscule	joyeux	épuisé	intelligent
crier	animaux	partir	hurler	futé
maison	meuble	habile	agile	S'en aller

9

PRODUCTION D'ÉCRITS

Décris cette image en écrivant quelques phrases.



Handwriting practice lines consisting of a red vertical margin line on the left, followed by a blue vertical line, and then several horizontal blue lines for writing.

10

ORTHOGRAPHE

Complète avec d ou b

Un ...rapeau

un ...allon

une ...anane

Unateau

une li...ellule

uneinde

Uneate

un ...ragon

...alancer

11

NUMERATION

Complète le tableau

-10	Nombre qui précède -1	nombre	Nombre qui suit +1	+10
		99		
		103		
		90		
		123		

12

CALCUL

Calcule et dessine si tu as besoin

9 - 4 =

18 - 9 =

43 - 3 =

25 - 10 =

A large empty rectangular box for drawing.

13

CALCUL

Calcule et dessine si tu as besoin

$80 + 60 = \dots\dots$

$90 + 40 = \dots\dots$


$80 + 70 + 10 = \dots$

$20 + 60 + 40 = \dots\dots$

14

NUMÉRATION

Complète le tableau comme dans l'exemple

154		$100+50+4$
104		
145		
189		
176		

15

NUMÉRATION

Ecris les nombres en lettres

182

294.....

383.....

198.....

16

GÉOMÉTRIE

Trace un trait de 12 centimètres et un autre de 1 dm et 6 cm

17

NUMÉRATION

Compte de 10 en 10

99									
			145						

18

CALCUL

Calcule les additions. Puis calcule les soustractions.

$$\begin{array}{r} 234 \\ + 54 \\ \hline \end{array}$$

$$\begin{array}{r} 162 \\ + 289 \\ \hline \end{array}$$

$$\begin{array}{r} 234 \\ + 43 \\ + 138 \\ \hline \end{array}$$

$$\begin{array}{r} 547 \\ + 8 \\ + 198 \\ \hline \end{array}$$

$$\begin{array}{r} 139 \\ - 114 \\ \hline \end{array}$$

$$\begin{array}{r} 627 \\ - 337 \\ \hline \end{array}$$

19

MESURE

Trace un segment de 5 cm, un de 8 cm et un 10 cm

20

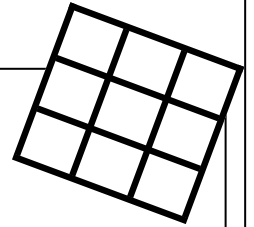
RÉSOLUTION DE PROBLÈMES Résous ces problèmes

Milo achète une guitare à 56 euros. Il donne au marchand 70 euros.

Combien le marchand va-t-il rendre à Milo?

.....Le marchand va rendre euros à Milo.

Un chocolatier a fabriqué 45 chocolats. Il doit les ranger dans des boîtes de 9 chocolats.



Combien de boîtes va -t-il utiliser?

.....Le chocolatiers va utiliserboîtes .

Luna a un collier de 18 perles. Les perles sont rouges et bleues. Il y a autant de perles rouges que de perles bleues.

Combien y a -t-il de perles rouges et de perles bleues?

..... Dans ce collier, il y aperles bleues etperles rouges.

21

MESURE Convertis les mesures

1 m = cm

1 dm =cm

4 m =cm

234 cm =m.....dm.....cm

780 cm =m.....dm.....cm

390 cm =m.....dm.....cm

La puce, détective rusé

Comme tous les matins, à six heures précises, Madame Leroi s'apprêtait à ouvrir sa boulangerie-pâtisserie. Elle fit tourner la clé dans la serrure. Elle entra, bâilla un bon coup et referma la porte derrière elle. Elle sursauta, puis sourit de sa peur. Elle tâtonna pour trouver le bouton de l'interrupteur et appuya : la lumière éclaira la boutique. Madame Leroi, horrifiée, fit un bond en arrière et se colla contre la porte... Son magasin avait été sauvagement saccagé. Les vitres étaient brisées et il n'y avait plus un seul gâteau sur les plateaux où elle les avait déposés la veille au soir. Le sol était couvert de débris de verre, de brioches écrasées. Madame Leroi, terrifiée, distingua très nettement des empreintes... Elle hurla.

Sarah Cohen-Scali, Casterman Junior

1. Quel est le métier de Madame Leroi?

Madame Leroi est

2. Que s'est-il passé dans son magasin?

Il y a beaucoup de monde
dans le magasin

Le magasin a été
saccagé

Le magasin a été
nettoyé

3. Que remarque Madame Leroi au milieu des débris de verre?

Madame Leroi remarque

Dessin libre

Plan de travail du

Appréciations:

	fait	notation
Vocabulaire	3 4 8	
Orthographe	5 7 10	
Grammaire/ conjugaison	1 2 6	
Ecriture / Lecture	9 22	
Numération	11 14 15 17	
Calcul et problème	12 13 18 20	
Géométrie et mesure	16 19 21	

1

CONJUGAISON Conjugue ces 3 verbes au présent de l'indicatif

	parler	chanter	sauter
Je			
Tu			
Il, elle			
Nous			
Vous			
Ils, elles			

2

GRAMMAIRE

Fais un rond rouge sous le verbe et souligne en bleu le sujet. Ensuite remplace le groupe sujet par un pronom personnel il/elle/ils/elles.

Léo et Arthur jouent aux cartes dans le salon.

.....

Les filles du collège discutent dans la cour de récréation.

.....

Les fleurs poussent dans le jardin ensoleillé.

.....

3

LEXIQUE Cherche dans le dictionnaire le mot **VIRAGE** et écris la définition.

.....

.....

.....

.....

.....

.....

.....

4

LEXIQUE

Colorie de la même couleur les mots contraires.


triste	noir	long	se réveiller	clair
foncé	capable	malhabile	lent	blanc
s'éloigner	pleurer	joyeux	s'approcher	rapide
habile	rire	incapable	s'endormir	court


5

ORTHOGRAPHE

Ecris les mots. Aide-toi des syllabes.













6

GRAMMAIRE

Fais un triangle bleu sous le déterminant et un triangle noir sous le

nom.

son jeune apprenti

l'enquête

Les choses

l'apprenti détective

la jeune femme

un perroquet

l'animal sauvage

le détective

une niche ouverte

7

ORTHOGRAPHE

Mets ces groupes nominaux au pluriel.

Un chat noir des

Un lion féroce des

Un petit cahier des

L'étoile polaire les

8

LEXIQUE

Colorie de la même couleur les mots qui sont synonymes..

petit	content	mobilier	faune	pavillon
fatigué	minuscule	joyeux	épuisé	intelligent
crier	animaux	partir	hurler	futé
maison	meuble	habile	agile	S'en aller

9

PRODUCTION D'ÉCRITS

Décris cette image en écrivant quelques phrases.



Handwriting practice lines consisting of a red vertical line on the left, a blue vertical line on the right, and several horizontal blue lines in between.

10

ORTHOGRAPHE

Complète avec d ou b

Un ...rapeau

un ...allon

une ...anane

Unateau

une li...ellule

uneinde

Uneate

un ...ragon

...alancer

11

NUMERATION

Complète le tableau

-10	Nombre qui précède -1	nombre	Nombre qui suit +1	+10
		99		
		103		
		90		
		123		

12

CALCUL

Calcule et dessine si tu as besoin

71 - 4 =

88 - 9 =

43 - 12 =

89 - 76 =

A large empty rectangular box for drawing.

13

CALCUL

Calcule et dessine si tu as besoin

$80 + 60 = \dots\dots$

$90 + 40 = \dots\dots$


$80 + 70 + 10 = \dots$

$20 + 60 + 40 = \dots\dots$

14

NUMÉRATION

Complète le tableau comme dans l'exemple

154		$100+50+4$
104		
145		
189		
176		

15

NUMÉRATION

Ecris les nombres en lettres

182

294.....

383.....

198.....

16

GÉOMÉTRIE

Trace un trait de 12 centimètres et un autre de 1 dm et 6 cm

17

NUMÉRATION

Compte de 10 en 10

99									
			145						

18

CALCUL

Pose et calcule les additions. Aligne bien les unités. Puis calcule les soustractions.

$$234 + 54 =$$

$$162 + 289 =$$

$$\begin{array}{r} + \\ \hline \end{array}$$

$$\begin{array}{r} + \\ \hline \end{array}$$

$$234 + 43 + 138 =$$

$$547 + 8 + 198 =$$

$$\begin{array}{r} + \\ + \\ \hline \end{array}$$

$$\begin{array}{r} + \\ + \\ \hline \end{array}$$

$$\begin{array}{r} 1\ 3\ 9 \\ -\ 1\ 1\ 4 \\ \hline \end{array}$$

$$\begin{array}{r} 6\ 2\ 7 \\ -\ 3\ 3\ 7 \\ \hline \end{array}$$

$$\begin{array}{r} 1\ 3\ 9 \\ -\ 1\ 1\ 4 \\ \hline \end{array}$$

$$\begin{array}{r} 6\ 2\ 7 \\ -\ 3\ 3\ 7 \\ \hline \end{array}$$

19

MESURE

Trace un segment de 5 cm, un de 8 cm et un 10 cm

20

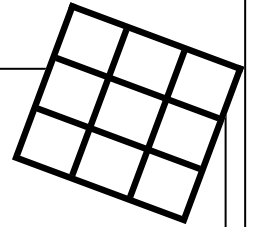
RÉSOLUTION DE PROBLÈMES Résous ces problèmes

Milo achète une guitare à 56 euros. Il donne au marchand 70 euros.

Combien le marchand va-t-il rendre à Milo?

.....Le marchand va rendre euros à Milo.

Un chocolatier a fabriqué 45 chocolats. Il doit les ranger dans des boîtes de 9 chocolats.



Combien de boîtes va -t-il utiliser?

.....Le chocolatiers va utiliserboîtes .

Luna a un collier de 18 perles. Les perles sont rouges et bleues. Il y a autant de perles rouges que de perles bleues.

Combien y a -t-il de perles rouges et de perles bleues?

..... Dans ce collier, il y aperles bleues etperles rouges.

21

MESURE Convertis les mesures

1 m = cm

1 dm =cm

4 m =cm

234 cm =m.....dm.....cm

780 cm =m.....dm.....cm

390 cm =m.....dm.....cm

La puce, détective rusé

Comme tous les matins, à six heures précises, Madame Leroi s'apprêtait à ouvrir sa boulangerie-pâtisserie. Elle fit tourner la clé dans la serrure. Elle entra, bâilla un bon coup et referma la porte derrière elle. Elle sursauta, puis sourit de sa peur. Elle tâtonna pour trouver le bouton de l'interrupteur et appuya : la lumière éclaira la boutique. Madame Leroi, horrifiée, fit un bond en arrière et se colla contre la porte... Son magasin avait été sauvagement saccagé. Les vitres étaient brisées et il n'y avait plus un seul gâteau sur les plateaux où elle les avait déposés la veille au soir. Le sol était couvert de débris de verre, de brioches écrasées. Madame Leroi, terrifiée, distingua très nettement des empreintes... Elle hurla.

Sarah Cohen-Scali, Casterman Junior

1. Quel est le métier de Madame Leroi?

.....

2. Que s'est-il passé dans son magasin?

.....

3. Que remarque Madame Leroi au milieu des débris de verre?

.....

Dessin libre