

La numération des nombres de 59 à 99

Cycle
2

Exercice 1 : Dessine les dizaines et les unités de ces nombres

69

71

80

92

98

67

Exercice 2 : Complète comme dans l'exemple

87

$80+7$

quatre-vingt-sept

90

75

62

81

93

83

63

71

60

La numération des nombres de 59 à 99

Cycle
2

Exercice 3 : Colorie de la même couleur

85

64

$80+2$

$70+2$

Soixante-
quatre

$80+5$

Quatre-vingt-
deux

quatre-vingt-
dix-neuf

Quatre-vingt-
cinq

72

99

82

$90+9$

soixante-
douze

$60+4$

Exercice 4 : Relie les nombres à leur écriture en lettres.

65

quatre-vingt-trois

87

quatre-vingt-onze

91

quatre-vingt-un

77

soixante-dix-sept

83

soixante-cinq

81

quatre-vingt-sept

La numération des nombres de 59 à 99

Cycle
2

Exercice 5 : Ecris le signe qui convient $<$, $>$ ou $=$

$87 \dots\dots 97$

$60 + 6 \dots\dots 66$

$65 \dots\dots 56$

$80 + 5 \dots\dots 58$

$89 \dots\dots 81$

$90 + 2 \dots\dots 82$

$99 \dots\dots 90$

$70 + 4 \dots\dots 74$

$76 \dots\dots 57$

$70 + 6 \dots\dots 67$

$77 \dots\dots 78$

$80 + 3 \dots\dots 80$

Exercice 5 : Ecris ces nombres en lettres

78.....

87.....

90.....

93.....

65.....

74.....

81.....

62.....

La numération des nombres de 59 à 99



Cycle
2

Exercice 7 : Complète la frise numérique.

67	→						
							↓ 74
↓							←
	→						

Exercice 8 : Range dans l'ordre croissant (plus petit au plus grand)

69	81	80	92	56	72	66	86
----	----	----	----	----	----	----	----

.....

Exercice 9 : Range dans l'ordre décroissant (plus grand au plus petit)

93	83	72	69	87	91	80	71
----	----	----	----	----	----	----	----

.....

Exercice 10 : Ecris le nombre d'avant et celui d'après .

..... 99

..... 62

..... 72

..... 85

..... 70

..... 79

..... 86

..... 90

La numération des nombres de 59 à 99

Cycle
2

Exercice 11 : Ajoute 2 à chaque fois

61																			

Exercice 12 : Ajoute 5 à chaque fois

54																			
----	--	--	--	--	--	--	--	--	--	--	--	--	--	--	--	--	--	--	--

Exercice 13 : Ajoute 10 à chaque fois

8																			
---	--	--	--	--	--	--	--	--	--	--	--	--	--	--	--	--	--	--	--

Exercice 14 : Encadre les nombres avec leurs dizaines les plus proches.



..... 89

..... 87

..... 72

..... 65

..... 56

..... 28

..... 34

..... 94


La numération des nombres de 59 à 99

Cycle
2

Exercice 15 : Compte le contenu de ces porte-monnaie.




..... €




..... €

Exercice 16 : Dessine la monnaie demandée.

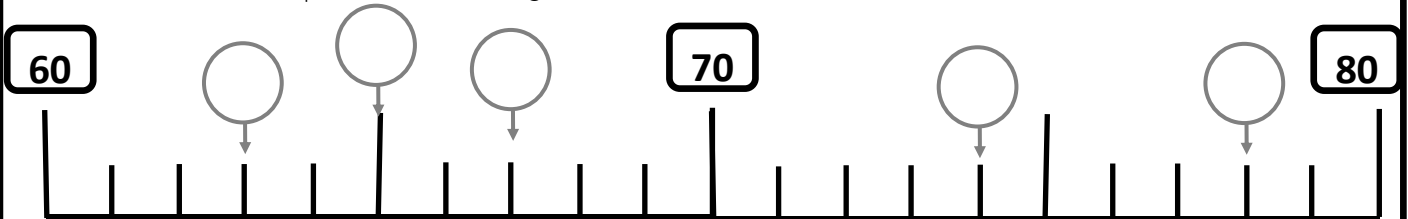


64 €



78€

Exercice 17 : Complète la droite graduée .



Dessine les dizaines et les unités de ces nombres

69

71

80

92

98

67

Dessine les dizaines et les unités de ces nombres

69

71

80

92

98

67

Dessine les dizaines et les unités de ces nombres

69

71

80

92

98

67

Complète comme dans l'exemple

87	$80+7$	quatre-vingt-sept
90		
75		
62		
81		
93		
83		
63		
71		
60		

Exercice 2 : Complète comme dans l'exemple

87	$80+7$	quatre-vingt-sept
90		
75		
62		
81		
93		
83		
63		
71		
60		

Colorie de la même couleur

85

64

$80+2$

$70+2$

Soixante-
quatre

$80+5$

Quatre-vingt-
deux

quatre-vingt-
dix-neuf

Quatre-vingt-
cinq

72

99

82

$90+9$

soixante-
douze

$60+4$

Colorie de la même couleur

85

64

$80+2$

$70+2$

Soixante-
quatre

$80+5$

Quatre-vingt-
deux

quatre-vingt-
dix-neuf

Quatre-vingt-
cinq

72

99

82

$90+9$

soixante-
douze

$60+4$

Colorie de la même couleur

85

64

$80+2$

$70+2$

Soixante-
quatre

$80+5$

Quatre-vingt-
deux

quatre-vingt-
dix-neuf

Quatre-vingt-
cinq

72

99

82

$90+9$

soixante-
douze

$60+4$

Relie les nombres à leur écriture en lettres.

65



• quatre-vingt-trois

87



• quatre-vingt-onze

91



• quatre-vingt-un

77



• soixante-dix-sept

83



• soixante-cinq

81



• quatre-vingt-sept

Relie les nombres à leur écriture en lettres.

65



• quatre-vingt-trois

87



• quatre-vingt-onze

91



• quatre-vingt-un

77



• soixante-dix-sept

83



• soixante-cinq

81



• quatre-vingt-sept

Ecris ces nombres en lettres

78.....

87.....

90.....

93.....

65.....

74.....

81.....

62.....

Ecris ces nombres en lettres

78.....

87.....

90.....

93.....

65.....

74.....

81.....

62.....

Ecris le signe qui convient $<$, $>$ ou $=$

$87 \dots\dots 97$

$60 + 6 \dots\dots 66$

$65 \dots\dots 56$

$80 + 5 \dots\dots 58$

$89 \dots\dots 81$

$90 + 2 \dots\dots 82$

$99 \dots\dots 90$

$70 + 4 \dots\dots 74$

$76 \dots\dots 57$

$70 + 6 \dots\dots 67$

$77 \dots\dots 78$

$80 + 3 \dots\dots 80$

Ecris le signe qui convient $<$, $>$ ou $=$

$87 \dots\dots 97$

$60 + 6 \dots\dots 66$

$65 \dots\dots 56$

$80 + 5 \dots\dots 58$

$89 \dots\dots 81$

$90 + 2 \dots\dots 82$

$99 \dots\dots 90$

$70 + 4 \dots\dots 74$

$76 \dots\dots 57$

$70 + 6 \dots\dots 67$

$77 \dots\dots 78$

$80 + 3 \dots\dots 80$

Ecris le signe qui convient $<$, $>$ ou $=$

$87 \dots\dots 97$

$60 + 6 \dots\dots 66$

$65 \dots\dots 56$

$80 + 5 \dots\dots 58$

$89 \dots\dots 81$

$90 + 2 \dots\dots 82$

$99 \dots\dots 90$

$70 + 4 \dots\dots 74$

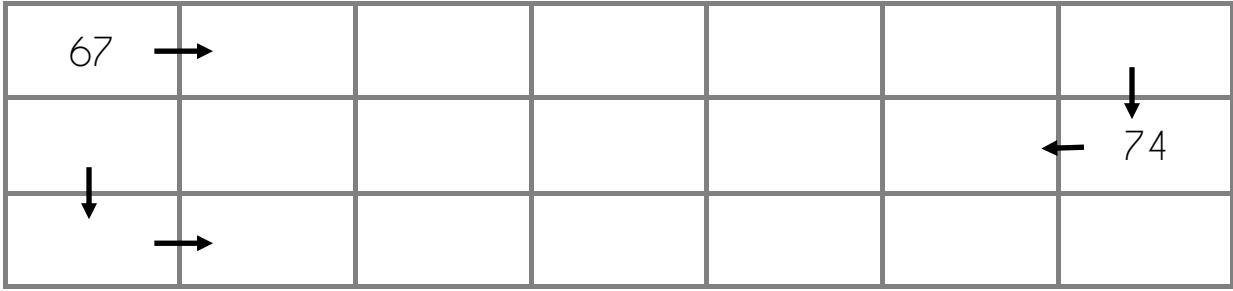
$76 \dots\dots 57$

$70 + 6 \dots\dots 67$

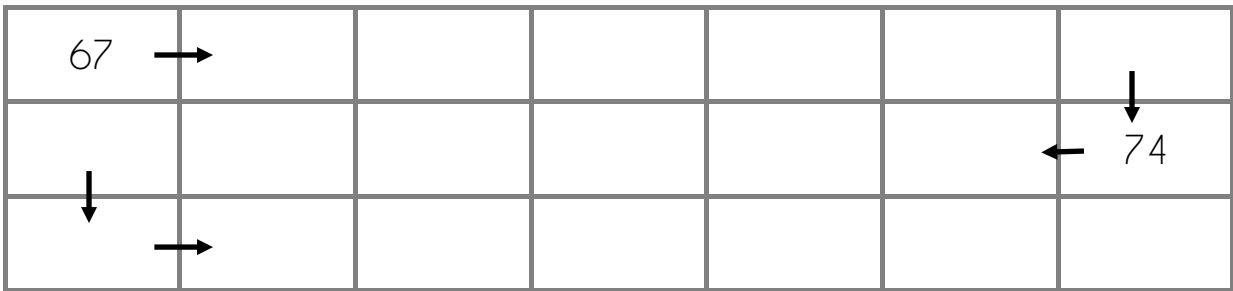
$77 \dots\dots 78$

$80 + 3 \dots\dots 80$

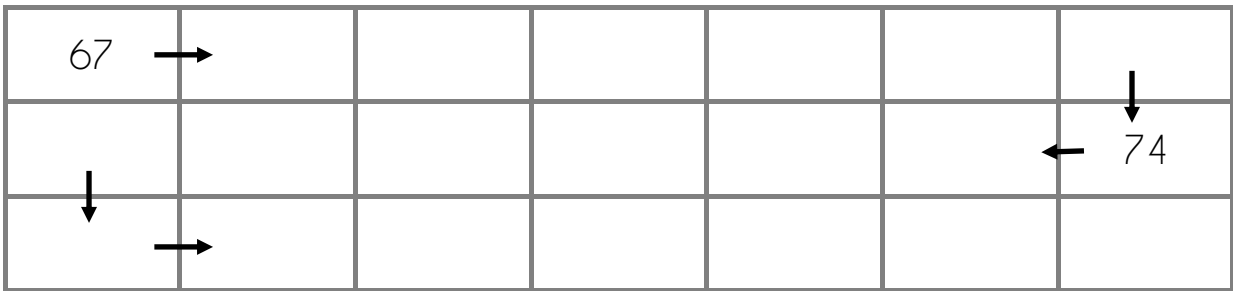
Complète la frise numérique.



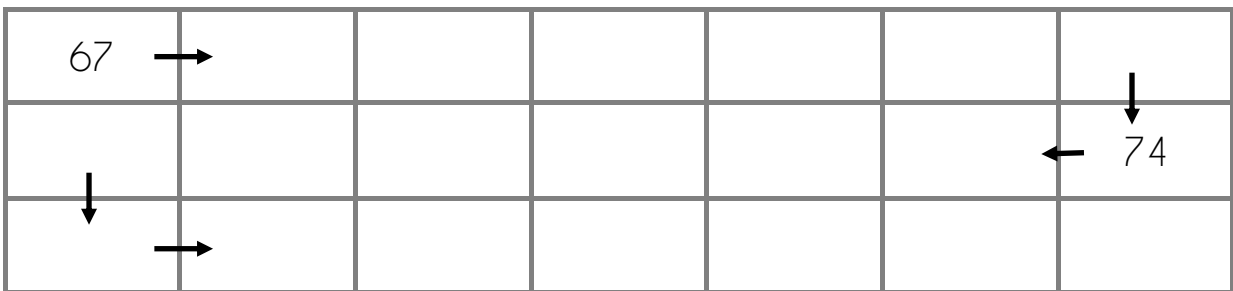
Complète la frise numérique.



Complète la frise numérique.



Complète la frise numérique.



Exercice 8 : Range dans l'ordre croissant (plus petit au plus grand)

69	81	80	92	56	72	66	86
----	----	----	----	----	----	----	----

.....

Exercice 8 : Range dans l'ordre croissant (plus petit au plus grand)

69	81	80	92	56	72	66	86
----	----	----	----	----	----	----	----

.....

Exercice 8 : Range dans l'ordre croissant (plus petit au plus grand)

69	81	80	92	56	72	66	86
----	----	----	----	----	----	----	----

.....

Exercice 8 : Range dans l'ordre croissant (plus petit au plus grand)

69	81	80	92	56	72	66	86
----	----	----	----	----	----	----	----

.....

Exercice 8 : Range dans l'ordre croissant (plus petit au plus grand)

69	81	80	92	56	72	66	86
----	----	----	----	----	----	----	----

.....

Range dans l'ordre décroissant (plus grand au plus petit)

93	83	72	69	87	91	80	71
----	----	----	----	----	----	----	----

.....

Range dans l'ordre décroissant (plus grand au plus petit)

93	83	72	69	87	91	80	71
----	----	----	----	----	----	----	----

.....

Range dans l'ordre décroissant (plus grand au plus petit)

93	83	72	69	87	91	80	71
----	----	----	----	----	----	----	----

.....

Range dans l'ordre décroissant (plus grand au plus petit)

93	83	72	69	87	91	80	71
----	----	----	----	----	----	----	----

.....

Range dans l'ordre décroissant (plus grand au plus petit)

93	83	72	69	87	91	80	71
----	----	----	----	----	----	----	----

.....

Ecris le nombre d'avant et celui d'après .

..... 99

..... 62

..... 72

..... 85

..... 70

..... 79

..... 86

..... 90

Ecris le nombre d'avant et celui d'après .

..... 99

..... 62

..... 72

..... 85

..... 70

..... 79

..... 86

..... 90

Ecris le nombre d'avant et celui d'après .

..... 99

..... 62

..... 72

..... 85

..... 70

..... 79

..... 86

..... 90

Ecris le nombre d'avant et celui d'après .

..... 99

..... 62

..... 72

..... 85

..... 70

..... 79

..... 86

..... 90

Ajoute 2 à chaque fois

61										

Ajoute 2 à chaque fois

61										

Ajoute 2 à chaque fois

61										

Ajoute 2 à chaque fois

61										

Encadre les nombres avec leurs dizaines les plus proches.



..... 89

..... 87

..... 72

..... 65

..... 56

..... 28

..... 34

..... 94

Encadre les nombres avec leurs dizaines les plus proches.



..... 89

..... 87

..... 72

..... 65

..... 56

..... 28

..... 34

..... 94

Encadre les nombres avec leurs dizaines les plus proches.



..... 89

..... 87

..... 72

..... 65

..... 56

..... 28


..... 34

..... 94

Compte le contenu de ces porte-monnaie.



..... €




..... €

Compte le contenu de ces porte-monnaie.



..... €




..... €

Compte le contenu de ces porte-monnaie.




..... €




..... €

Dessine la monnaie demandée.




→ 64 €




→ 78€

Dessine la monnaie demandée.




→ 64 €




→ 78€

Dessine la monnaie demandée.

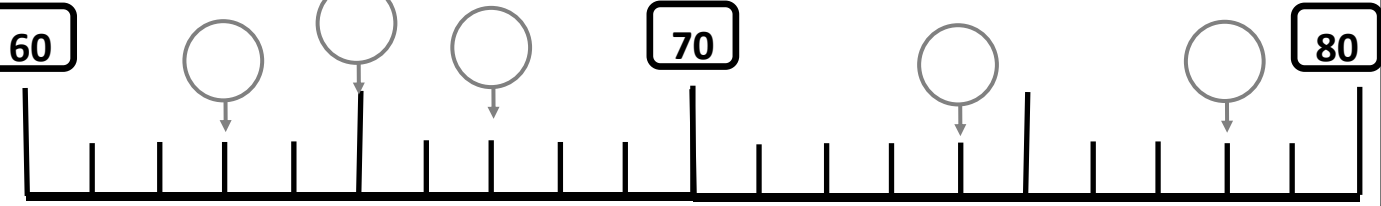


→ 64 €

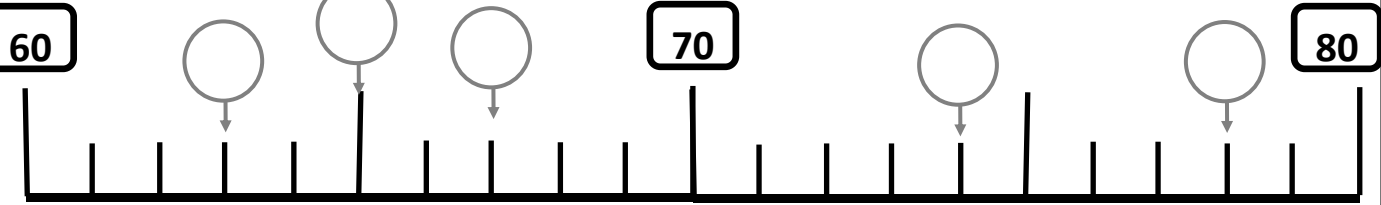


→ 78€

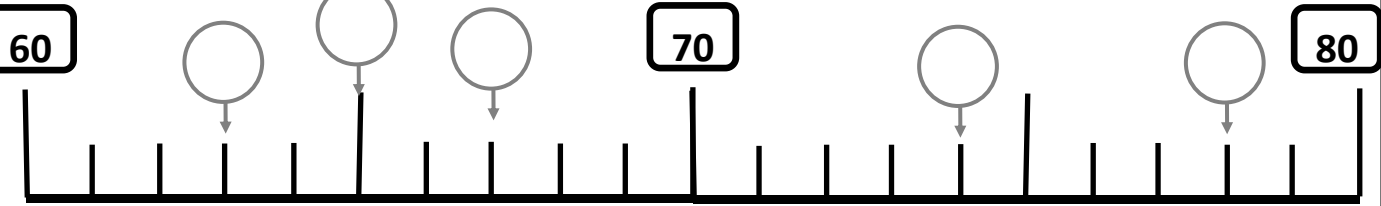
Complète la droite graduée .



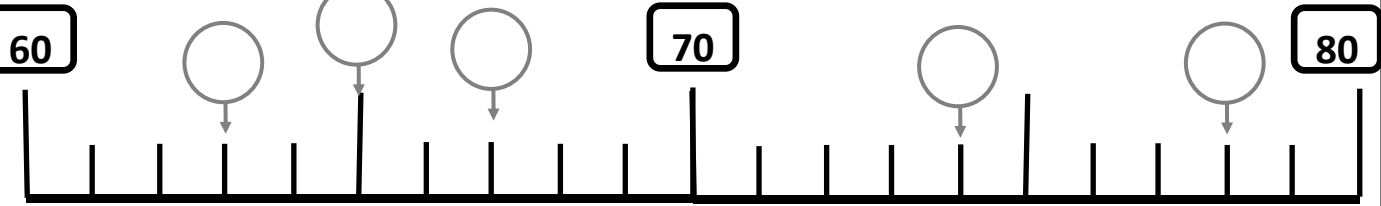
Complète la droite graduée .



Complète la droite graduée .



Complète la droite graduée .



Complète la droite graduée .

